

Phòng giáo dục quận Thanh Xuân

Trường tiểu học Khương ai

Mụn Toán

Bài : phép trừ trong phạm vi 4


Người soạn

Đỗ Thị Thu Hằng

Phép trừ trong



phạm vi 4

Phép trừ trong phạm vi 4



$$4 - 1 = 3$$



Phép trừ trong phạm vi 4



$$4 - 1 = 3$$



Phép trừ trong phạm vi 4



$$4 - 1 = 3$$



$$4 - 2 = 2$$



$$4 - 3 = 1$$

Phép trừ trong phạm vi 4

$$4 - 1 = 3$$

$$4 - 2 = 2$$

$$4 - 3 = 1$$

Phép trừ trong phạm vi 4

$$4 - 1 = \boxed{?}$$

$$4 - 2 = 2$$

$$4 - 3 = \boxed{?}$$

Phép trừ trong phạm vi 4

$$4 - 1 = \boxed{?}$$

$$4 - \boxed{?} = 2$$

$$4 - 3 = \boxed{?}$$

Phép trừ trong phạm vi 4

$$\boxed{?} - 1 = 3$$

$$4 - \boxed{?} = 2$$

$$\boxed{?} - 3 = 1$$

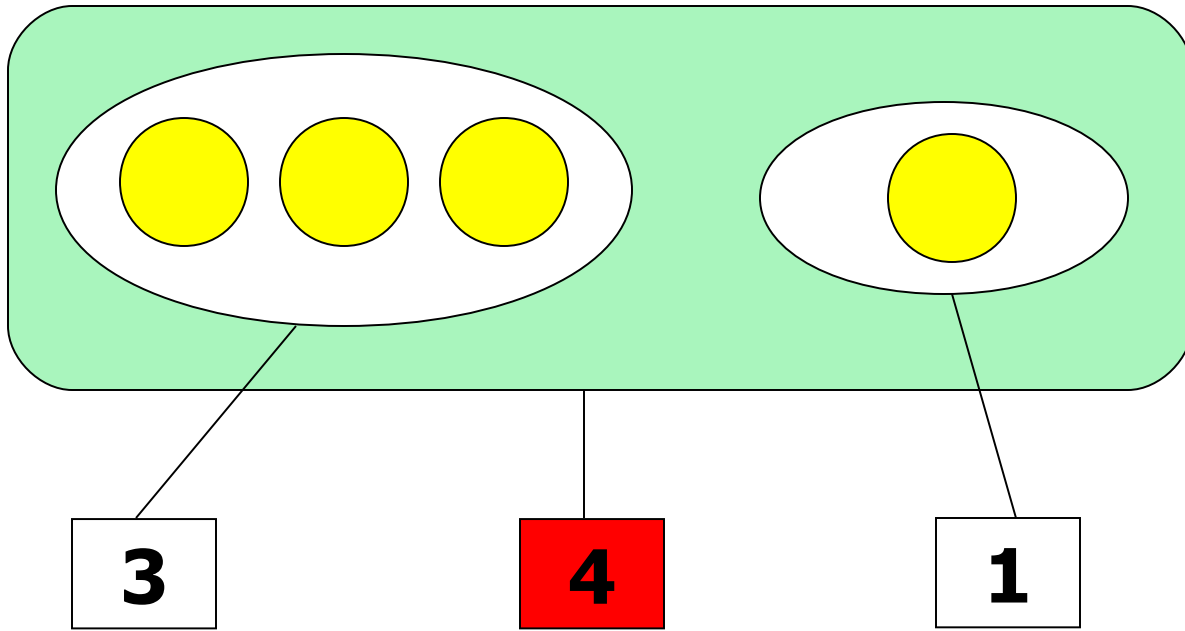
Phép trừ trong phạm vi 4

$$4 - 1 = 3$$

$$4 - 2 = 2$$

$$4 - 3 = 1$$

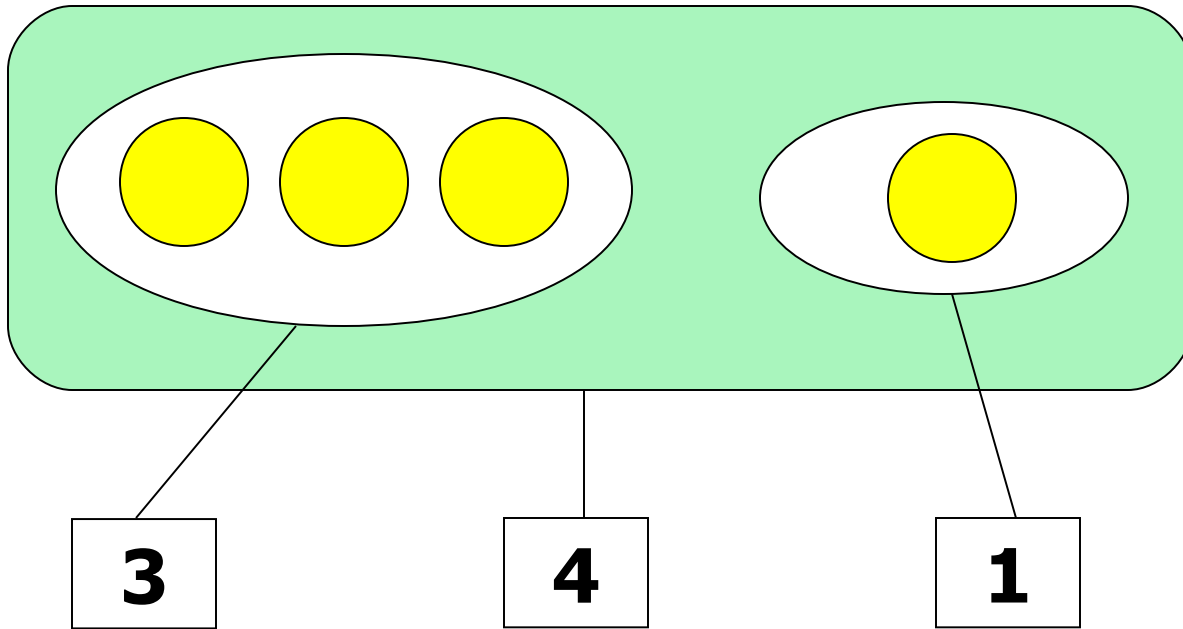
Phép từ trong phạm vi 4



$$3 + 1 = 4$$

$$1 + 3 = 4$$

Phép trừ trong phạm vi 4

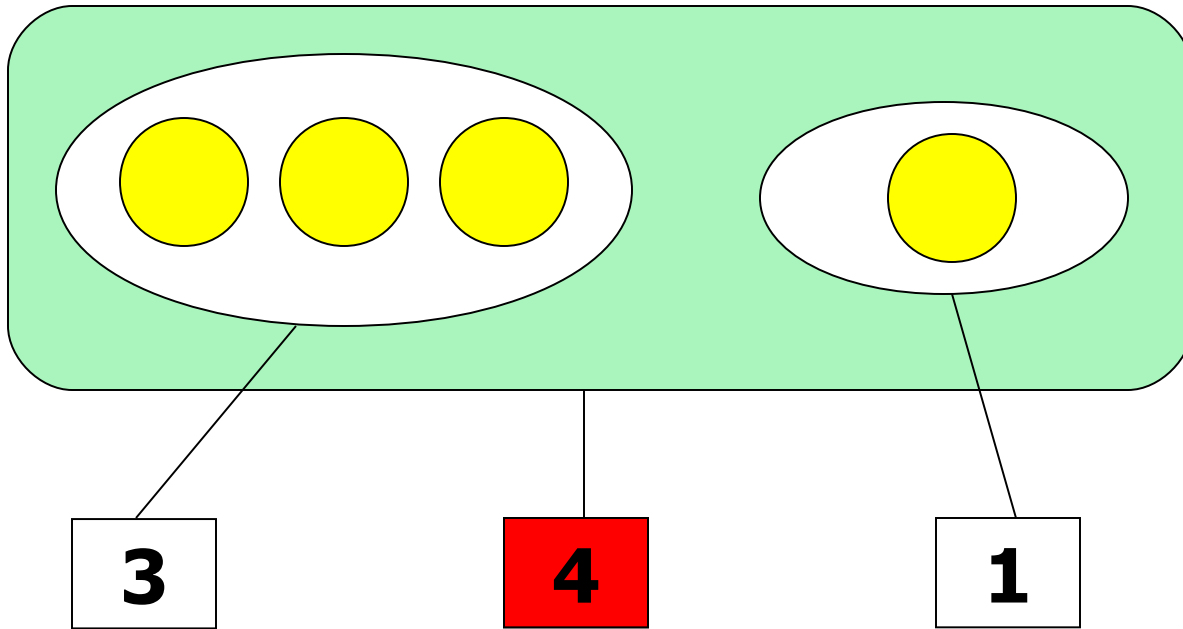


$$3 + 1 = 4$$

$$1 + 3 = 4$$

$$4 - 1 = 3$$

Phép trừ trong phạm vi 4



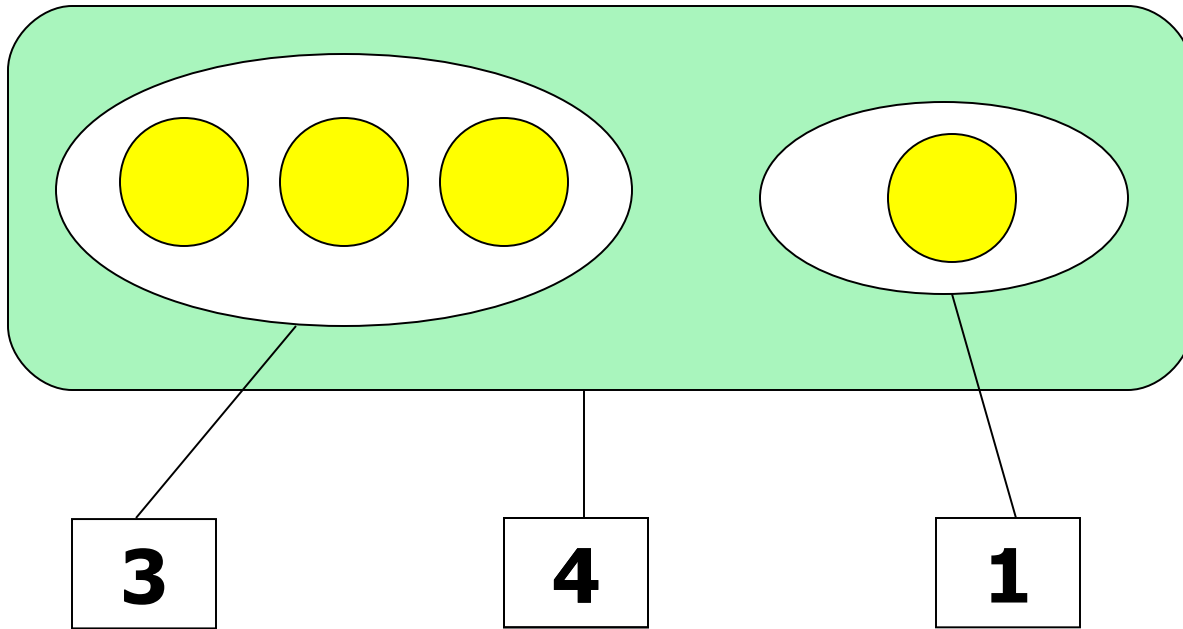
$$3 + 1 = 4$$

$$1 + 3 = 4$$

$$4 - 1 = 3$$

$$4 - 3 = 1$$

Phép trừ trong phạm vi 4



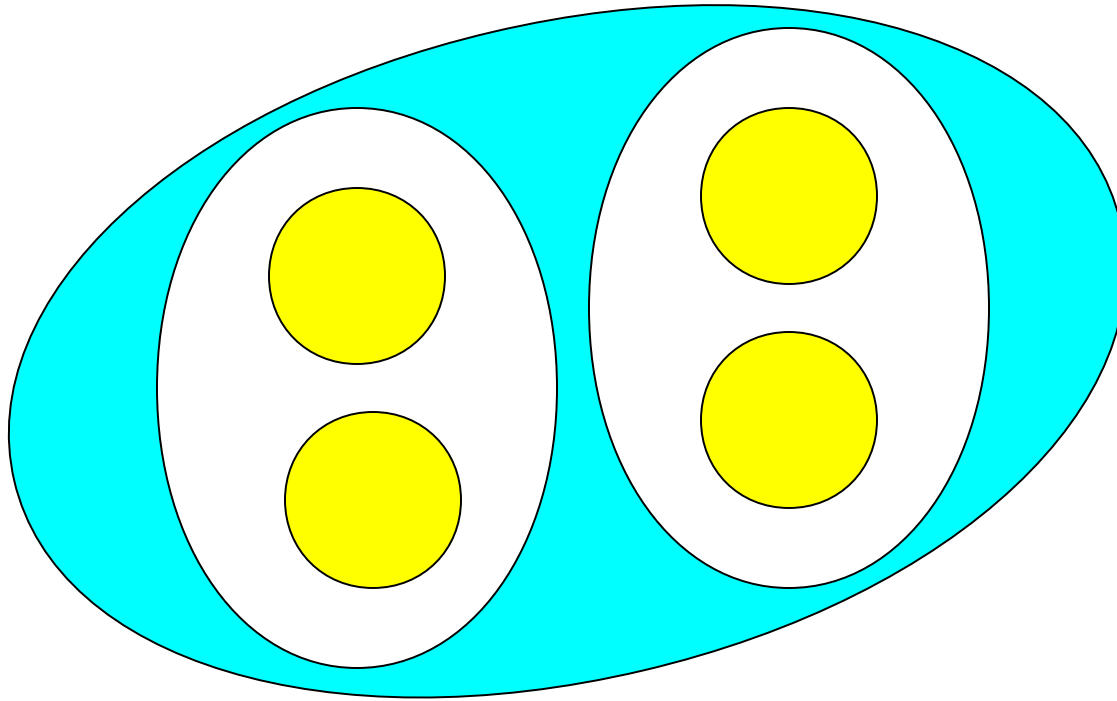
$$3 + 1 = 4$$

$$1 + 3 = 4$$

$$4 - 1 = 3$$

$$4 - 3 = 1$$

Phép trừ trong phạm vi 4



$$2 + 2 = 4$$

$$4 - 2 = 2$$

Phép trừ trong phạm vi 4

Bài 1(56) : Tính

$$4 - 1 = 3$$

$$4 - 2 = 2$$

$$3 - 1 = 2$$

$$3 - 2 = 1$$

$$2 - 1 = 1$$

$$4 - 3 = 1$$

$$3 + 1 = 4$$

$$1 + 2 = 3$$

$$4 - 3 = 1$$

$$3 - 1 = 2$$

$$4 - 1 = 3$$

$$3 - 2 = 1$$

Phép trừ trong phạm vi 4

Bài 2(56) : Tính

$$\begin{array}{r} 4 \\ - 2 \\ \hline 2 \end{array}$$

$$\begin{array}{r} 4 \\ - 1 \\ \hline 3 \end{array}$$

$$\begin{array}{r} 3 \\ - 2 \\ \hline 1 \end{array}$$


$$\begin{array}{r} 4 \\ - 3 \\ \hline 1 \end{array}$$

$$\begin{array}{r} 2 \\ - 1 \\ \hline 1 \end{array}$$

$$\begin{array}{r} 3 \\ - 1 \\ \hline 2 \end{array}$$

Phộp trừ trong phạm vi 4

Bài 3(56) : Viết phép tính thích hợp



4	-	1	=	3
---	---	---	---	---